



Naturteknologi.dk

Enkelt og ligetil



Danske øer

© Naturteknologi.dk



Opgave 1

Skriv navnene på de øer du kender



Opgave 2

I Danmark har vi cirka 400 øer.

På 80 af øerne bor der mennesker.

De 5 største øer i Danmark efter areal er:

1. Sjælland
2. Vendsyssel - Thy
3. Fyn
4. Lolland
5. Bornholm

Forbind navnene med øerne herunder

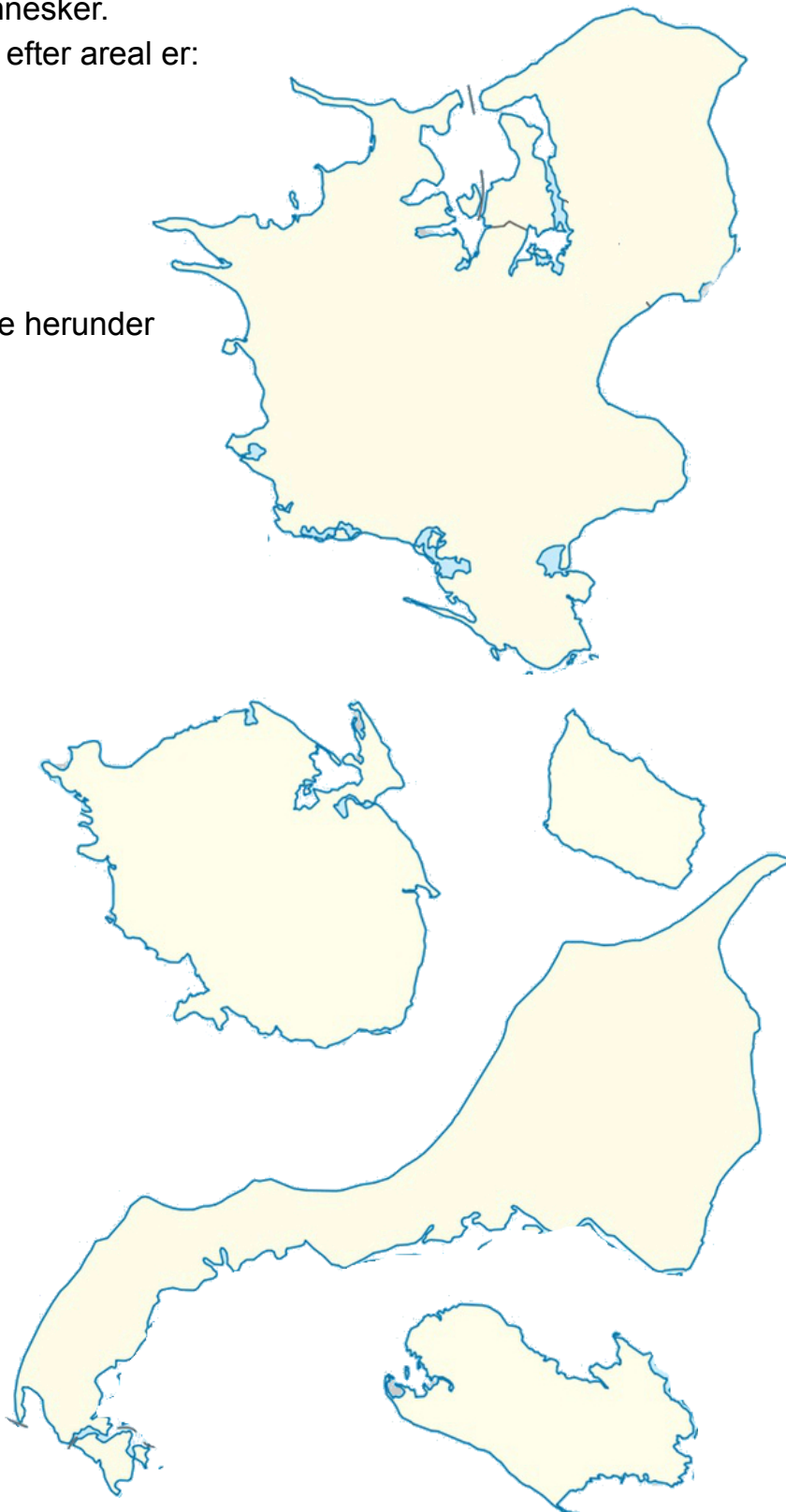
Bornholm

Sjælland

Lolland

Vendsyssel - Thy


Fyn





Opgave 3

Tegn efter prikkerne og se hvilken ø der gemmer sig bag prikkerne





Opgave 3 - fortsat

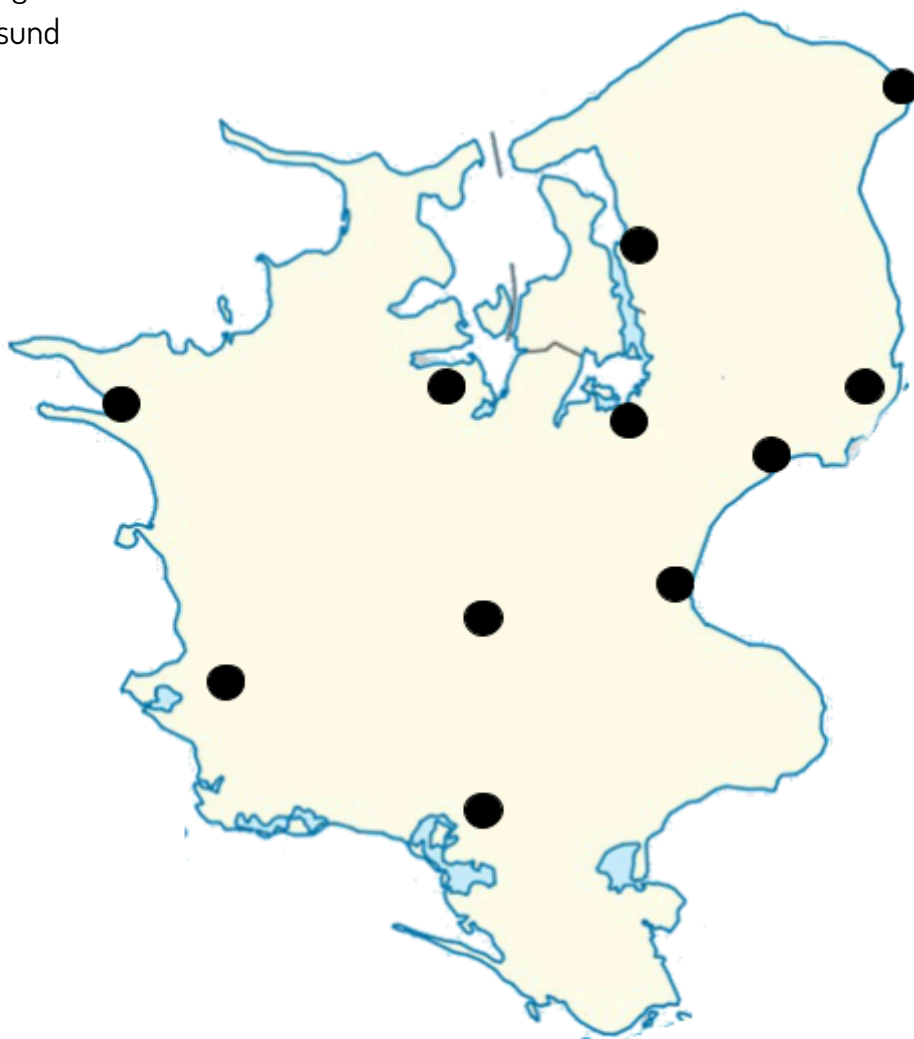


Opgave 4

Brug et atlas eller google maps til at løse denne opgave

Placer følgende byer på kortet herunder:

1. København
2. Roskilde
3. Greve
4. Køge
5. Slagelse
6. Holbæk
7. Ringsted
8. Helsingør
9. Kalundborg
10. Frederikssund
11. Næstved



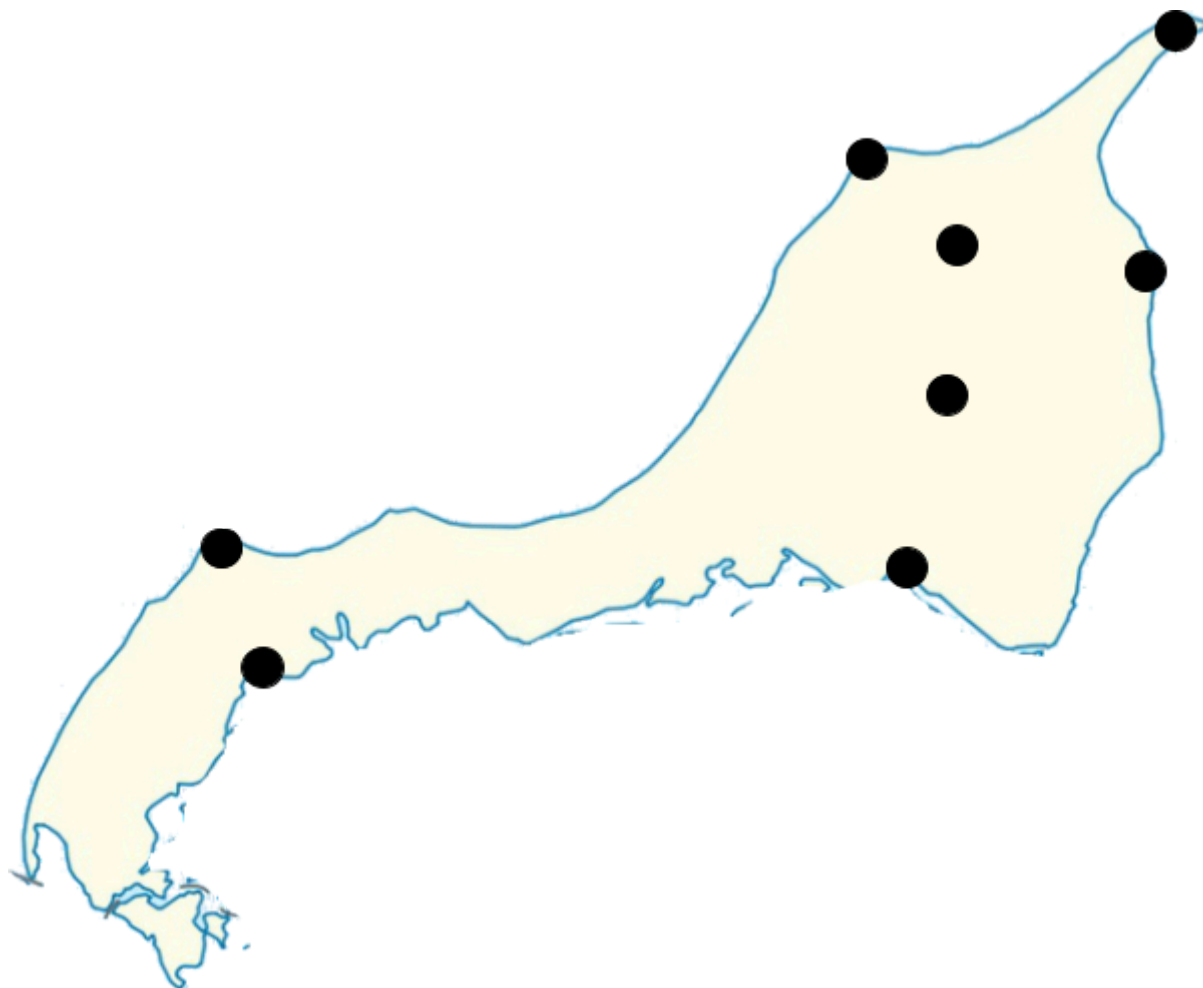


Opgave 5

Brug et atlas eller google maps til at løse denne opgave

Placer følgende byer på kortet herunder:

1. Skagen
2. Frederikshavn
3. Nørresundby
4. Hirtshals
5. Hjørring
6. Thisted
7. Hanstholm
8. Brønderslev



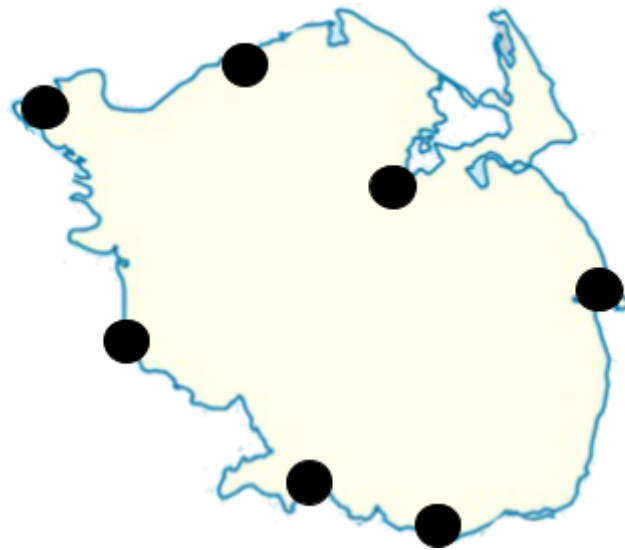


Opgave 6

Brug et atlas eller google maps til at løse denne opgave

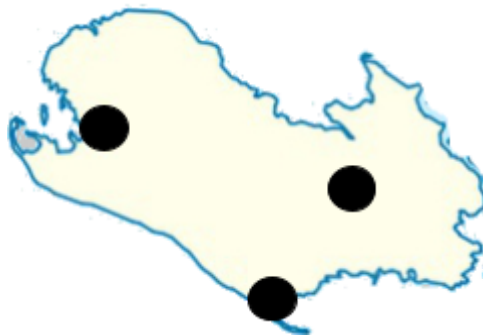
Placer følgende byer på kortet herunder:

1. Odense
2. Svendborg
3. Fåborg
4. Nyborg
5. Middelfart
6. Assens
7. Bogense



Placer følgende byer på kortet til højre:

1. Nakskov
2. Maribo
3. Rødby



Placer følgende byer på kortet til højre:

1. Rønne
2. Allinge
3. Nexø





Opgave 7

I Danmark har vi også andre øer. Herunder er nogle af dem
Tegn pile fra de grønne øer og hen til de rigtige navne



Samsø

Møn

Falster

Læsø

Mors

Langeland





Opgave 8

I Danmark har vi også andre øer.

Tegn pile fra de grønne og øer ind på det store kort på deres rigtige placering





Opgave 9

Brug atlas eller google maps til at løse denne opgave

Find navnene på disse øer





Opgave 10

Tegn de manglende øer ind på kortet

De manglende øer er

1. Fanø
2. Samsø
3. Anholt
4. Orø
5. Amager
6. Færø
7. Tåsinge
8. Fur

